

SSB 22nd June 2023

Participant ID	2041690500011
Participant Name	MAHESH KUMAR
Test Center Name	Apex Institute of Engineering and Technology
Test Date	22/06/2023
Test Time	4:30 PM - 6:30 PM
Subject	CT Non GD

Section : General Knowledge

Q.1 अगस्त 2022 में, भारत के निम्नलिखित में से किस राज्य/संघ राज्य क्षेत्र में 'विलेज डिफेंस गार्ड स्कीम' लागू किया गया?

- Ans
- 1. गुजरात
 - 2. हरियाणा
 - 3. जम्मू-कश्मीर
 - 4. दिल्ली

Question ID : 630680251025
Option 1 ID : 630680974127
Option 2 ID : 630680974128
Option 3 ID : 630680974129
Option 4 ID : 630680974130
Status : Answered
Chosen Option : 2

Q.2 'सागर मंथन' डैशबोर्ड भारत के किस केंद्रीय मंत्रालय से संबंधित है?

- Ans
- 1. नवीन और नवीकरणीय ऊर्जा मंत्रालय
 - 2. विज्ञान और प्रौद्योगिकी मंत्रालय
 - 3. पत्तन, पोत परिवहन और जलमार्ग मंत्रालय
 - 4. जल शक्ति मंत्रालय

Question ID : 630680251022
Option 1 ID : 630680974117
Option 2 ID : 630680974115
Option 3 ID : 630680974118
Option 4 ID : 630680974116
Status : Answered
Chosen Option : 3

Q.3 भक्ति कुलकर्णी निम्नलिखित में से किस खेल से संबंधित हैं?

- Ans
- 1. शतरंज
 - 2. टेबल टेनिस
 - 3. कबड्डी
 - 4. बैडमिंटन

Question ID : 630680251021
Option 1 ID : 630680974111
Option 2 ID : 630680974114
Option 3 ID : 630680974113
Option 4 ID : 630680974112
Status : Answered
Chosen Option : 2

Q.4 गरिया पूजा के संबंध में निम्नलिखित में से कौन सा कथन सही है/हैं?

- I. यह त्रिपुरा में मनाए जाने वाले पारंपरिक आदिवासी त्योहारों में से एक है।
II. यह पूजा बैसाख (अप्रैल) के महीने में आयोजित की जाती है।

- Ans 1. न तो I न ही II
 2. I और II दोनों
 3. केवल I
 4. केवल II

Question ID : 630680251035

Option 1 ID : 630680974170

Option 2 ID : 630680974169

Option 3 ID : 630680974167

Option 4 ID : 630680974168

Status : Answered

Chosen Option : 2

Q.5 निम्नलिखित में से किस पुस्तक ने अंग्रेजी भाषा श्रेणी में 2022 के लिए साहित्य अकादमी पुरस्कार जीता?

- Ans 1. द कीपर ऑफ द डेड
 2. ऑल द लाइव्स वी नेवर लिड
 3. द ब्लाइंड लेडीज डिसेंटेंट्स
 4. क्रॉनिकल ऑफ़ ए कॉर्पस बियरर

Question ID : 630680251031

Option 1 ID : 630680974154

Option 2 ID : 630680974151

Option 3 ID : 630680974152

Option 4 ID : 630680974153

Status : Answered

Chosen Option : 2

Q.6 _____ आम चुनावों से ठीक पहले, भारत में पहली बार निर्वाचन आयोग को बहु-सदस्यीय बनाया गया था।

- Ans 1. 1989
 2. 1991
 3. 1996
 4. 1984

Question ID : 630680251041

Option 1 ID : 630680974192

Option 2 ID : 630680974193

Option 3 ID : 630680974194

Option 4 ID : 630680974191

Status : Answered

Chosen Option : 2

Q.7 वांगला त्योहार भारत की निम्नलिखित में से किस जनजाति से संबंधित है?

- Ans 1. गारो
 2. जयंतिया
 3. खासी
 4. कार्बी

Question ID : 630680251034
Option 1 ID : 630680974165
Option 2 ID : 630680974166
Option 3 ID : 630680974164
Option 4 ID : 630680974163
Status : Answered
Chosen Option : 4

Q.8 दक्षिण अफ्रीका से भारत आने के बाद महात्मा गांधी के सत्याग्रह आंदोलनों के संदर्भ में, निम्नलिखित घटनाओं को पहले से बाद में होने के सही क्रम में व्यवस्थित करें।

- I. रॉलट सत्याग्रह
II. खेड़ा सत्याग्रह
III. नमक यात्रा

- Ans 1. II-I-III
 2. I-II-III
 3. I-III-II
 4. II-III-I

Question ID : 630680251028
Option 1 ID : 630680974142
Option 2 ID : 630680974141
Option 3 ID : 630680974139
Option 4 ID : 630680974140
Status : Answered
Chosen Option : 3

Q.9 भारत में जीव सुरक्षा अधिनियम किस वर्ष लागू किया गया था?

- Ans 1. 1968
 2. 1978
 3. 1972
 4. 1982

Question ID : 630680251037
Option 1 ID : 630680974175
Option 2 ID : 630680974177
Option 3 ID : 630680974176
Option 4 ID : 630680974178
Status : Answered
Chosen Option : 2

Q.10 मिज़ो भाषा निम्नलिखित में से किस भाषा परिवार से संबंधित है?

- Ans
- 1. इंडो-आर्यन
 - 2. ऑस्ट्रोएशियाई
 - 3. चीन-तिब्बती
 - 4. द्रविड़

Question ID : 630680251033

Option 1 ID : 630680974159

Option 2 ID : 630680974161

Option 3 ID : 630680974162

Option 4 ID : 630680974160

Status : Answered

Chosen Option : 2

Q.11 जनवरी 2023 तक की स्थिति के अनुसार, भारत के निम्नलिखित में से किस राज्य में द्विसदनीय विधायिका नहीं है?

- Ans
- 1. महाराष्ट्र
 - 2. तेलंगाना
 - 3. गुजरात
 - 4. बिहार

Question ID : 630680251042

Option 1 ID : 630680974196

Option 2 ID : 630680974197

Option 3 ID : 630680974198

Option 4 ID : 630680974195

Status : Answered

Chosen Option : 4

Q.12 निम्नलिखित में से 'समाज सुधारक - सुधारवादी संगठन' का कौन-सा युग्म सही सुमेलित है?

- Ans
- 1. राजा राममोहन राय - आर्य समाज
 - 2. ज्योतिराव फुले - सत्यशोधक समाज
 - 3. पेरियार - प्रार्थना समाज
 - 4. नारायण गुरु - ब्रह्मो समाज

Question ID : 630680251029

Option 1 ID : 630680974143

Option 2 ID : 630680974146

Option 3 ID : 630680974145

Option 4 ID : 630680974144

Status : Answered

Chosen Option : 3

Q.13 भारतीय संविधान का अनुच्छेद 18 निम्नलिखित में से किससे संबंधित है?

- Ans
- 1. शिक्षा का अधिकार
 - 2. उपाधियों का अंत
 - 3. विधि के समक्ष समता
 - 4. अस्पृश्यता का अंत

Question ID : 630680251040

Option 1 ID : 630680974188

Option 2 ID : 630680974190

Option 3 ID : 630680974187

Option 4 ID : 630680974189

Status : Answered

Chosen Option : 4

Q.14 भारत की 2011 की जनगणना के अनुसार निम्नलिखित राज्यों को उच्चतम से निम्नतम लिंगानुपात के सही क्रम में व्यवस्थित करें।

- I. मध्य प्रदेश
- II. हिमाचल प्रदेश
- III. अरुणाचल प्रदेश

- Ans
- 1. III-II-I
 - 2. III-I-II
 - 3. II-III-I
 - 4. II-I-III

Question ID : 630680251039

Option 1 ID : 630680974185

Option 2 ID : 630680974186

Option 3 ID : 630680974183

Option 4 ID : 630680974184

Status : Answered

Chosen Option : 4

Q.15 निम्नलिखित में से कौन 'ए रिकॉर्ड ऑफ बुद्धिस्ट किंगडम्स' पुस्तक के मूल लेखक हैं?

- Ans
- 1. मेगास्थनीज
 - 2. फ्रेकोइस बर्नियर
 - 3. फा शिएन
 - 4. श्वैन त्सांग

Question ID : 630680251032

Option 1 ID : 630680974157

Option 2 ID : 630680974158

Option 3 ID : 630680974155

Option 4 ID : 630680974156

Status : Answered

Chosen Option : 4

Q.16 भारत के उपराष्ट्रपति के संबंध में निम्नलिखित में से कौन सा/से कथन सही है/हैं?

- I. राष्ट्रपति की मृत्यु, त्यागपत्र, महाभियोग द्वारा हटाए जाने या या अन्य किसी कारण से रिक्त होने पर वह कार्यवाहक राष्ट्रपति के रूप में काम करता है।
- II. वह लोक सभा का पदेन अध्यक्ष होता है।

- Ans
- 1. I और II दोनों
 - 2. न ही I न ही II
 - 3. केवल I
 - 4. केवल II

Question ID : 630680251043

Option 1 ID : 630680974201

Option 2 ID : 630680974202

Option 3 ID : 630680974199

Option 4 ID : 630680974200

Status : Answered

Chosen Option : 3

Q.17 भारत की 2011 की जनगणना के अनुसार, देश में पुरुषों की साक्षरता दर लगभग _____ प्रतिशत है।

- Ans
- 1. 65
 - 2. 74
 - 3. 78
 - 4. 82

Question ID : 630680251038
Option 1 ID : 630680974179
Option 2 ID : 630680974180
Option 3 ID : 630680974181
Option 4 ID : 630680974182
Status : Answered
Chosen Option : 2

Q.18 हिमालय के सबसे उत्तरी भाग में स्थित श्रृंखला को _____ कहते हैं।

- Ans
- 1. हिमाचल
 - 2. विंध्याचल
 - 3. हिमाद्रि
 - 4. शिवालिक

Question ID : 630680251036
Option 1 ID : 630680974174
Option 2 ID : 630680974171
Option 3 ID : 630680974173
Option 4 ID : 630680974172
Status : Answered
Chosen Option : 4

Q.19 मार्च 2023 में, _____ के शोधकर्ताओं ने एक नए जीवाणुरोधी छोटे अणु की खोज की जो दवा-प्रतिरोधी संक्रमणों के खिलाफ लड़ने में मदद कर सकता है।

- Ans
- 1. आईआईटी बॉम्बे
 - 2. आईआईटी मद्रास
 - 3. आईआईटी खड़गपुर
 - 4. आईआईटी रुड़की

Question ID : 630680251023
Option 1 ID : 630680974120
Option 2 ID : 630680974119
Option 3 ID : 630680974121
Option 4 ID : 630680974122
Status : Answered
Chosen Option : 2

Q.20 एक फर्म द्वारा अर्जित संप्राप्ति की गणना के लिए निम्नलिखित में से कौन सा नहीं जोड़ा जाता है?

- Ans
- 1. सरकारी व्यय
 - 2. समस्त मांग
 - 3. निवेश
 - 4. अंतिम उपभोग

Question ID : 630680251026
Option 1 ID : 630680974131
Option 2 ID : 630680974134
Option 3 ID : 630680974133
Option 4 ID : 630680974132
Status : Answered
Chosen Option : 3

Q.21 जून 2022 में, 'घर के ऊपर सोलर इज सुपर' अभियान भारत के किस राज्य में शुरू किया गया था?

- Ans
- 1. राजस्थान
 - 2. गुजरात
 - 3. कर्नाटक
 - 4. केरल

Question ID : 630680251024
Option 1 ID : 630680974125
Option 2 ID : 630680974126
Option 3 ID : 630680974124
Option 4 ID : 630680974123
Status : Answered
Chosen Option : 2

Q.22 द्वितीय विश्व युद्ध के संदर्भ में, निम्नलिखित में से कौन सा देश धुरी शक्तियों का सदस्य नहीं था?

- Ans
- 1. फ्रांस
 - 2. जापान
 - 3. जर्मनी
 - 4. इटली

Question ID : 630680251030
Option 1 ID : 630680974150
Option 2 ID : 630680974148
Option 3 ID : 630680974147
Option 4 ID : 630680974149
Status : Answered
Chosen Option : 4

Q.23 पौधों में _____ प्रकाश संश्लेषण के लिए बहुत आवश्यक है।

- Ans
- 1. क्लोरोप्लास्ट
 - 2. ल्यूकोप्लास्ट
 - 3. इलायोप्लास्ट
 - 4. एमाइलोप्लास्ट

Question ID : 630680251044
Option 1 ID : 630680974203
Option 2 ID : 630680974204
Option 3 ID : 630680974206
Option 4 ID : 630680974205
Status : Answered
Chosen Option : 1

Q.24 36वें राष्ट्रीय खेल 2022 में सर्वश्रेष्ठ पुरुष एथलीट का पुरस्कार किसने जीता?

- Ans
- 1. शौर्यजीत खैरे
 - 2. साजन प्रकाश
 - 3. अक्षय प्रकाश तरल
 - 4. श्रीहरि नटराज

Question ID : 630680251020
Option 1 ID : 630680974107
Option 2 ID : 630680974108
Option 3 ID : 630680974109
Option 4 ID : 630680974110
Status : Answered
Chosen Option : 4

Q.25 निम्नलिखित में से किस स्थिति में मांग की कीमत लोच पूर्ण रूप से लोचहीन हो जाती है?

I. जब मांग की कीमत लोच शून्य हो।

II. जब मांग वक्र ऊर्ध्वाधर होता है।

- Ans
- 1. न तो I न ही II
 - 2. I और II दोनों
 - 3. केवल II
 - 4. केवल I

Question ID : 630680251027

Option 1 ID : 630680974138

Option 2 ID : 630680974137

Option 3 ID : 630680974136

Option 4 ID : 630680974135

Status : Answered

Chosen Option : 3

Section : Mathematics

Q.26 दो रेलगाड़ियाँ समान गति से विपरीत दिशाओं में चल रही हैं। यदि प्रत्येक रेलगाड़ी की लम्बाई 576 मीटर है तथा वे एक दूसरे को 24 सेकण्ड में पार करती हैं, तो प्रत्येक रेलगाड़ी की गति क्या है?

- Ans
- 1. 30 मी./से.
 - 2. 18 मी./से.
 - 3. 12 मी./से.
 - 4. 24 मी./से.

Question ID : 630680251059

Option 1 ID : 630680974263

Option 2 ID : 630680974264

Option 3 ID : 630680974265

Option 4 ID : 630680974266

Status : Answered

Chosen Option : 4

Q.27 7 से.मी. व्यास वाले एक ठोस गोले को दो बराबर भागों में काटा जाता है। इसके कुल पृष्ठीय क्षेत्रफल में क्या वृद्धि होगी?

- Ans
- 1. 132 से.मी.²
 - 2. 77 से.मी.²
 - 3. 154 से.मी.²
 - 4. 110 से.मी.²

Question ID : 630680251065

Option 1 ID : 630680974289

Option 2 ID : 630680974287

Option 3 ID : 630680974288

Option 4 ID : 630680974290

Status : Answered

Chosen Option : 1

Q.28 किसी आयताकार मेज़ की ऊपरी सतह का परिमाण 140 मीटर है तथा इसका क्षेत्रफल 1200 मीटर² है। इसके विकर्ण की लम्बाई क्या है?

- Ans
- 1. 32 मीटर
 - 2. 40 मीटर
 - 3. 24 मीटर
 - 4. 50 मीटर

Question ID : 630680251064
Option 1 ID : 630680974283
Option 2 ID : 630680974286
Option 3 ID : 630680974284
Option 4 ID : 630680974285
Status : Answered
Chosen Option : 1

Q.29 एक घन की भुजा की लंबाई 21 से.मी. है। घन से बाहर निकाले जा सकने वाले सबसे बड़े गोले का आयतन क्या है?

- Ans
- 1. 4510 से.मी.²
 - 2. 8702 से.मी.²
 - 3. 4851 से.मी.²
 - 4. 4631 से.मी.²

Question ID : 630680251069
Option 1 ID : 630680974303
Option 2 ID : 630680974306
Option 3 ID : 630680974305
Option 4 ID : 630680974304
Status : Answered
Chosen Option : 2

Q.30 एक कार समान गति से 42 कि.मी. की एक दूरी तय करती है। यदि कार की गति को 1 कि.मी./घंटा से बढ़ाया जाता है, तो वह समान दूरी तय करने में 1 घंटे कम लेती है। कार की वास्तविक गति क्या है?

- Ans
- 1. 7 कि.मी./घंटा
 - 2. 6 कि.मी./घंटा
 - 3. 8 कि.मी./घंटा
 - 4. 5 कि.मी./घंटा

Question ID : 630680251058
Option 1 ID : 630680974259
Option 2 ID : 630680974261
Option 3 ID : 630680974262
Option 4 ID : 630680974260
Status : Answered
Chosen Option : 2

Q.31 एक शंकु की त्रिज्या 5 से.मी. है तथा इसकी ऊँचाई 12 से.मी. है। शंकु का वक्र पृष्ठीय क्षेत्रफल क्या है?

- Ans
- 1. 198.28 से.मी.²
 - 2. 204.28 से.मी.²
 - 3. 184.18 से.मी.²
 - 4. 206.48 से.मी.²

Question ID : 630680251066
Option 1 ID : 630680974293
Option 2 ID : 630680974292
Option 3 ID : 630680974294
Option 4 ID : 630680974291
Status : Answered
Chosen Option : 3

Q.32 16 संख्याओं का औसत 45 है। यदि अंतिम 6 संख्याओं का औसत 40 है, तो शेष संख्याओं का औसत क्या है?

- Ans
- 1. 48
 - 2. 42
 - 3. 49
 - 4. 45

Question ID : 630680251048
Option 1 ID : 630680974221
Option 2 ID : 630680974222
Option 3 ID : 630680974220
Option 4 ID : 630680974219
Status : Answered
Chosen Option : 3

Q.33 एक व्यक्ति किसी निश्चित राशि को 30 प्रतिशत की वार्षिक दर से साधारण ब्याज पर उधार देता है। 5 वर्षों में ब्याज, उधार दी गई राशि से 3200 रुपये अधिक हो जाता है। उधार दी गई राशि क्या है?

- Ans
- 1. 4800 रुपये
 - 2. 6400 रुपये
 - 3. 5600 रुपये
 - 4. 3200 रुपये

Question ID : 630680251056
Option 1 ID : 630680974251
Option 2 ID : 630680974254
Option 3 ID : 630680974252
Option 4 ID : 630680974253
Status : Answered
Chosen Option : 1

Q.34 35 से.मी. आधार की त्रिज्या तथा 40 से.मी. ऊँचाई वाले एक बेलन को दो समरूप बेलन प्राप्त करने के लिए उसकी ऊँचाई से द्विभाजित किया जाता है। कुल पृष्ठीय क्षेत्रफल में कितने प्रतिशत की वृद्धि होगी?

- Ans
- 1. 46.67 प्रतिशत
 - 2. 42.9 प्रतिशत
 - 3. 45 प्रतिशत
 - 4. 49.67 प्रतिशत

Question ID : 630680251067
Option 1 ID : 630680974295
Option 2 ID : 630680974298
Option 3 ID : 630680974296
Option 4 ID : 630680974297
Status : Answered
Chosen Option : 1

Q.35 सबसे छोटा पूर्ण घन क्या है, जो 12 तथा 4 दोनों से विभाज्य है?

- Ans
- 1. 125
 - 2. 343
 - 3. 64
 - 4. 216

Question ID : 630680251045

Option 1 ID : 630680974208

Option 2 ID : 630680974209

Option 3 ID : 630680974210

Option 4 ID : 630680974207

Status : Answered

Chosen Option : 1

Q.36 A अकेला एक कार्य को 16 दिनों में पूरा कर सकता है तथा B अकेला उसी कार्य को 32 दिनों में पूरा कर सकता है। यदि दोनों मिलकर कार्य करते हैं, तो 8 दिनों में कुल कार्य का कितना प्रतिशत कार्य पूरा हो जायेगा?

- Ans
- 1. 75 प्रतिशत
 - 2. 60 प्रतिशत
 - 3. 70 प्रतिशत
 - 4. 50 प्रतिशत

Question ID : 630680251061

Option 1 ID : 630680974274

Option 2 ID : 630680974271

Option 3 ID : 630680974273

Option 4 ID : 630680974272

Status : Answered

Chosen Option : 1

Q.37 एक मेज पर कमाया गया लाभ क्रय मूल्य का 350 प्रतिशत है। यदि क्रय मूल्य में 50 प्रतिशत की वृद्धि होती है लेकिन विक्रय मूल्य समान रहता है, तो नया लाभ प्रतिशत क्या है?

- Ans
- 1. 150 प्रतिशत
 - 2. 300 प्रतिशत
 - 3. 250 प्रतिशत
 - 4. 200 प्रतिशत

Question ID : 630680251051

Option 1 ID : 630680974232

Option 2 ID : 630680974234

Option 3 ID : 630680974231

Option 4 ID : 630680974233

Status : Answered

Chosen Option : 1

Q.38 यदि U, V से 20 प्रतिशत कम है तथा V, 800 से 40 प्रतिशत अधिक है, तो U का मान क्या है?

- Ans
- 1. 896
 - 2. 786
 - 3. 782
 - 4. 936

Question ID : 630680251049

Option 1 ID : 630680974225

Option 2 ID : 630680974226

Option 3 ID : 630680974224

Option 4 ID : 630680974223

Status : Answered

Chosen Option : 2

Q.39 A, B तथा C साझेदार हैं तथा एक व्यापार में निवेश करते हैं। A कुल निवेश का $\frac{1}{8}$ भाग निवेश करता है तथा B कुल निवेश का $\frac{1}{16}$ भाग निवेश करता है। क्रमशः A, B तथा C के लाभ का अनुपात क्या है?

- Ans
- 1. 2 : 1 : 5
 - 2. 5 : 2 : 9
 - 3. 6 : 3 : 7
 - 4. 2 : 1 : 13

Question ID : 630680251055
Option 1 ID : 630680974248
Option 2 ID : 630680974249
Option 3 ID : 630680974247
Option 4 ID : 630680974250
Status : Answered
Chosen Option : 1

Q.40 49000 रुपये को A, B तथा C में इस प्रकार बाँटा गया है कि A का हिस्सा B तथा B के कुल हिस्से का $\frac{2}{5}$ है, तथा B का हिस्सा A तथा C के कुल हिस्से का $\frac{3}{7}$ है। C का हिस्सा क्या है?

- Ans
- 1. 21000 रुपये
 - 2. 203000 रुपये
 - 3. 20000 रुपये
 - 4. 14700 रुपये

Question ID : 630680251054
Option 1 ID : 630680974245
Option 2 ID : 630680974244
Option 3 ID : 630680974243
Option 4 ID : 630680974246
Status : Answered
Chosen Option : 1

Q.41 18 संख्याओं का औसत 50 है। यदि एक संख्या को हटाया जाता है, तो शेष संख्याओं का औसत 43 हो जाता है। हटायी गयी संख्या क्या थी?

- Ans
- 1. 160
 - 2. 169
 - 3. 144
 - 4. 289

Question ID : 630680251047
Option 1 ID : 630680974218
Option 2 ID : 630680974215
Option 3 ID : 630680974216
Option 4 ID : 630680974217
Status : Answered
Chosen Option : 1

Q.42 यदि $7A5296B$, 5 तथा 22 से विभाज्य है, तो $A + B$ का मान क्या हो सकता है?

- Ans 1. 3
 2. 2
 3. 1
 4. 4

Question ID : 630680251046
Option 1 ID : 630680974212
Option 2 ID : 630680974211
Option 3 ID : 630680974214
Option 4 ID : 630680974213
Status : Answered
Chosen Option : 2

Q.43 अंकित अकेले एक कार्य को 20 दिनों में पूरा कर सकता है तथा सचिन अकेले उसी कार्य को अंकित द्वारा लिए गए समय के आधे समय में पूरा कर सकता है। दोनों मिलकर कुल कार्य का $\frac{3}{5}$ भाग कितने दिनों में पूरा करेंगे?

- Ans 1. 5
 2. 6
 3. 4
 4. 3

Question ID : 630680251062
Option 1 ID : 630680974278
Option 2 ID : 630680974277
Option 3 ID : 630680974275
Option 4 ID : 630680974276
Status : Answered
Chosen Option : 2

Q.44 यदि दो घनों के आयतन का अनुपात $729 : 512$ है, तो दोनों घनों की भुजाओं का अनुपात क्या है?

- Ans 1. 8 : 7
 2. 6 : 5
 3. 10 : 9
 4. 9 : 8

Question ID : 630680251068
Option 1 ID : 630680974301
Option 2 ID : 630680974302
Option 3 ID : 630680974299
Option 4 ID : 630680974300
Status : Answered
Chosen Option : 1

Q.45 यदि $9P = 16Q$ तथा $2Q = 5R$ हो, तो $P : Q : R$ का मान क्या है?

- Ans 1. 18 : 32 : 9
 2. 80 : 45 : 18
 3. 9 : 16 : 10
 4. 8 : 6 : 7

Question ID : 630680251053
Option 1 ID : 630680974239
Option 2 ID : 630680974241
Option 3 ID : 630680974240
Option 4 ID : 630680974242
Status : Answered
Chosen Option : 1

Q.46 दो नल A तथा B एक टंकी को क्रमशः 20 मिनट तथा 30 मिनट में अकेले भर सकते हैं। यदि एक निकासी नल C को खोल दिया जाये, तो तीनों एक साथ मिलकर उसी टंकी को 60 मिनट में भर सकते हैं। नल C अकेला उसी टंकी को खाली करने में कितना समय लेगा?

- Ans 1. 25 मिनट
 2. 15 मिनट
 3. 30 मिनट
 4. 20 मिनट

Question ID : 630680251063
Option 1 ID : 630680974281
Option 2 ID : 630680974279
Option 3 ID : 630680974282
Option 4 ID : 630680974280
Status : Answered
Chosen Option : 4

Q.47 एक व्यापारी एक ट्रॉली बैग जिसका अंकित मूल्य 1248 रुपये है, पर 25 प्रतिशत की छूट देता है तथा 20 प्रतिशत का लाभ कमाता है। ट्रॉली बैग का क्रय मूल्य क्या है?

- Ans 1. 780
 2. 680
 3. 850
 4. 900

Question ID : 630680251052
Option 1 ID : 630680974237
Option 2 ID : 630680974235
Option 3 ID : 630680974236
Option 4 ID : 630680974238
Status : Answered
Chosen Option : 3

Q.48 रवी अपनी यात्रा बिन्दु A से 9 पूर्वाह्न पर आरंभ करता है। वह पहले तीन घंटे 30 कि.मी./घंटा की गति से कार चलाता है तथा शेष यात्रा को 20 कि.मी./घंटा की गति से पूरा करता है। यदि विवेक बिन्दु A से 2 अपराह्न पर 95 कि.मी./घंटा की गति से सूरज की ओर चलना आरंभ करता है, तो वह रवी को किस समय पकड़ लेगा?

- Ans 1. 4:00 अपराह्न
 2. 5:00 अपराह्न
 3. 3:00 अपराह्न
 4. 3:30 अपराह्न

Question ID : 630680251060
Option 1 ID : 630680974269
Option 2 ID : 630680974270
Option 3 ID : 630680974268
Option 4 ID : 630680974267
Status : Answered
Chosen Option : 2

Q.49 एक राशि को 1 वर्ष के लिए 16 प्रतिशत प्रतिवर्ष की दर से चक्रवृद्धि ब्याज (वार्षिक संयोजन से) पर उधार दिया गया था। यदि ब्याज का संयोजन अर्धवार्षिक रूप से किया जाता, तो ब्याज 640 रुपये से बढ़ जाता। उधार दी गई राशि क्या थी?

- Ans 1. 75000 रुपये
 2. 120000 रुपये
 3. 100000 रुपये
 4. 50000 रुपये

Question ID : 630680251057

Option 1 ID : 630680974256

Option 2 ID : 630680974258

Option 3 ID : 630680974257

Option 4 ID : 630680974255

Status : Answered

Chosen Option : 1

Q.50 दो उम्मीदवारों के बीच हुए एक चुनाव में, विजयी उम्मीदवार को मान्य मतों के 60 प्रतिशत मत प्राप्त हुए हैं तथा वह 4000 मतों की बहुमत से जीता है। यदि डाले गए कुल मतों में से 80 प्रतिशत मत मान्य हैं, तो डाले गए मतों की कुल संख्या क्या है?

- Ans 1. 25000
 2. 21000
 3. 22500
 4. 18000

Question ID : 630680251050

Option 1 ID : 630680974229

Option 2 ID : 630680974228

Option 3 ID : 630680974227


Option 4 ID : 630680974230

Status : Answered

Chosen Option : 3

Section : Reasoning

Q.51 कौन सी उत्तर आकृति प्रश्न आकृति के प्रतिरूप को पूरा करेगी?

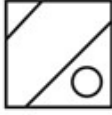


Ans

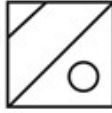
✗ 1.



✗ 2.



✓ 3.



✗ 4.



Question ID : 630680251087
Option 1 ID : 630680974376
Option 2 ID : 630680974375
Option 3 ID : 630680974377
Option 4 ID : 630680974378

Status : Answered

Chosen Option : 3

Q.52 कौन सी आकृति दी गई आकृतियों के समान है?



Ans

✓ 1.



✗ 2.



✗ 3.



✗ 4.



Question ID : 630680251089
Option 1 ID : 630680974384
Option 2 ID : 630680974383
Option 3 ID : 630680974386
Option 4 ID : 630680974385

Status : Answered

Chosen Option : 1

Q.53 निम्नलिखित प्रश्न में अर्थपूर्ण शब्दों के चार समूह दिए गए हैं। उनमें से तीन समान तर्क/नियम/संबंध के आधार पर समान हैं। दिए गए विकल्पों में से विषम को चुनिए।

- Ans 1. (फुटबॉल, हॉकी, क्रिकेट)
 2. (रिंक, अखाड़ा, रिंग)
 3. (लेखक, बद्धई, फर्नीचर)
 4. (मंदिर, गिरजाघर, मस्जिद)

Question ID : 630680251080

Option 1 ID : 630680974348

Option 2 ID : 630680974347

Option 3 ID : 630680974349

Option 4 ID : 630680974350

Status : Answered

Chosen Option : 3

Q.54 $(13.102)^2 + 22.23\% \text{ of } 153 - \sqrt{730.53} \times 4.28$ का सन्निकट मान क्या है?

- Ans 1. 135
 2. 50
 3. 165
 4. 95

Question ID : 630680251092

Option 1 ID : 630680974396

Option 2 ID : 630680974397

Option 3 ID : 630680974398

Option 4 ID : 630680974395

Status : Answered

Chosen Option : 2

Q.55 निम्नलिखित प्रश्न में दी गई श्रृंखला में से लुप्त अंक ज्ञात कीजिए।

67, 68, 64, 91, 75, 200, ?

- Ans 1. 168
 2. 160
 3. 167
 4. 164

Question ID : 630680251094

Option 1 ID : 630680974406

Option 2 ID : 630680974405

Option 3 ID : 630680974404

Option 4 ID : 630680974403

Status : Answered

Chosen Option : 3

Q.56 उस लुप्त युग्म (पांचवा अक्षर समूह : छठा अक्षर समूह) का चयन करें जो उसी प्रकार संबंधित है जिस प्रकार पहला अक्षर समूह दूसरे अक्षर समूह से संबंधित है और तीसरा अक्षर समूह चौथे अक्षर समूह से संबंधित है।

AMS : UOC :: PGL : NIR :: ?

- Ans
- 1. SRF : HUU
 - 2. TFB : DHW
 - 3. BMH : JOD
 - 4. LDK : MEN

Question ID : 630680251077

Option 1 ID : 630680974338

Option 2 ID : 630680974335

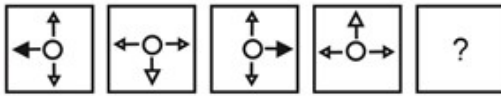
Option 3 ID : 630680974336

Option 4 ID : 630680974337

Status : Answered

Chosen Option : 1

Q.57 निम्नलिखित प्रश्न में, दिए गए विकल्पों में से प्रश्न चिन्ह (?) के स्थान पर आने वाली आकृति को चुनिए।



Ans

- 1.
- 2.
- 3.
- 4.

Question ID : 630680251081

Option 1 ID : 630680974352

Option 2 ID : 630680974351

Option 3 ID : 630680974354

Option 4 ID : 630680974353

Status : Answered

Chosen Option : 2

Q.58 निम्नलिखित प्रश्न में दी गई श्रृंखला में से लुप्त अंक ज्ञात कीजिए।

143, 145, 142, 147, 140, 151, ?

- Ans
- 1. 135
 - 2. 140
 - 3. 138
 - 4. 141

Question ID : 630680251093

Option 1 ID : 630680974400

Option 2 ID : 630680974402

Option 3 ID : 630680974399

Option 4 ID : 630680974401

Status : Answered

Chosen Option : 3

Q.59 यदि $13 \# 11 = 576$ तथा $18 \# 5 = 529$ हो, तो $12 \# 17 = ?$

- Ans 1. 861
 2. 981
 3. 921
 4. 841

Question ID : 630680251091
Option 1 ID : 630680974392
Option 2 ID : 630680974391
Option 3 ID : 630680974393
Option 4 ID : 630680974394
Status : Answered
Chosen Option : 1

Q.60 निम्नलिखित प्रश्न में दिए गए विकल्पों में से विषम अक्षर/अक्षरों को चुनिए।

- Ans 1. SVBH
 2. HKPW
 3. ORWD
 4. ADIP

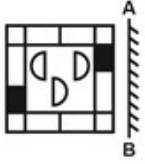
Question ID : 630680251079
Option 1 ID : 630680974345
Option 2 ID : 630680974344
Option 3 ID : 630680974346
Option 4 ID : 630680974343
Status : Answered
Chosen Option : 4

Q.61 एक लड़के की तस्वीर की ओर संकेत करते हुए, एक महिला ने कहा 'वह मेरी माता के पति की एकमात्र संतान का पुत्र है।' वह लड़का उस महिला से किस प्रकार संबंधित है?

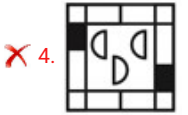
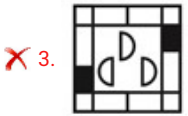
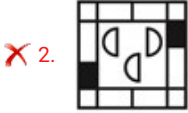
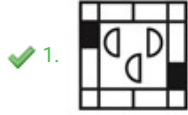
- Ans 1. पति
 2. भाई
 3. पुत्र
 4. पिता

Question ID : 630680251074
Option 1 ID : 630680974323
Option 2 ID : 630680974325
Option 3 ID : 630680974324
Option 4 ID : 630680974326
Status : Answered
Chosen Option : 3

Q.62 यदि एक दर्पण को AB रेखा पर रखा जाए, तो दी गई विकल्प आकृतियों में से कौन सी आकृति प्रश्न आकृति की सही प्रतिबिंब होगी?



Ans



Question ID : 630680251086

Option 1 ID : 630680974373

Option 2 ID : 630680974372


Option 3 ID : 630680974374

Option 4 ID : 630680974371

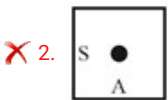
Status : Answered

Chosen Option : 3

Q.63 निम्नलिखित प्रश्न में, दिए गए विकल्पों में से प्रश्न चिन्ह (?) के स्थान पर आने वाली आकृति को चुनिए।



Ans



Question ID : 630680251082

Option 1 ID : 630680974355

Option 2 ID : 630680974356

Option 3 ID : 630680974357

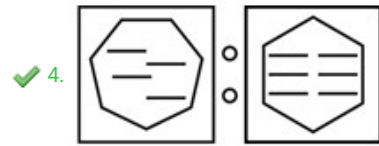
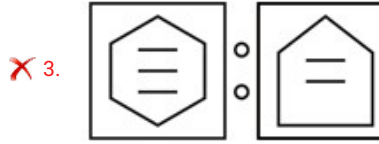
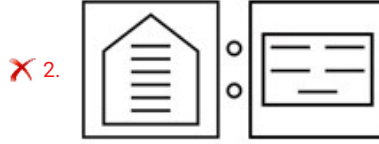
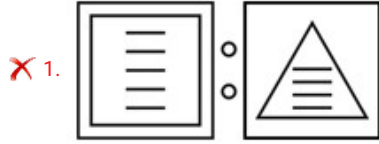
Option 4 ID : 630680974358

Status : Answered

Chosen Option : 1

Q.64 निम्नलिखित प्रश्न में, दिए गए विकल्पों में से विषम आकृति युग्म को चुनिए। प्रत्येक युग्म में (:) के बाईं ओर की आकृति किसी तर्क/नियम/संबंध द्वारा (:) के दाईं ओर की आकृति से संबंधित है।

Ans



Question ID : 630680251090

Option 1 ID : 630680974388

Option 2 ID : 630680974389

Option 3 ID : 630680974387

Option 4 ID : 630680974390

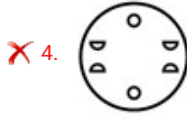

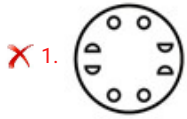
Status : Answered

Chosen Option : 4

Q.65 नीचे की प्रश्न आकृतियों में दिखाए गए अनुसार कागज को मोड़कर छेदने तथा खोलने के बाद वह किस विकल्प आकृति जैसा दिखाई देगा?



Ans



Question ID : 630680251085

Option 1 ID : 630680974369

Option 2 ID : 630680974367

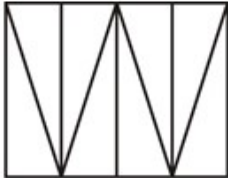
Option 3 ID : 630680974368

Option 4 ID : 630680974370

Status : Answered

Chosen Option : 3

Q.66 दी गई आकृति में कितने त्रिभुज हैं?



Ans ✗ 1. 12

✗ 2. 10

✓ 3. 11

✗ 4. 8

Question ID : 630680251083

Option 1 ID : 630680974362

Option 2 ID : 630680974360

Option 3 ID : 630680974361

Option 4 ID : 630680974359

Status : Answered

Chosen Option : 3

Q.67 A, B का भाई है। C, D का पिता है। L, H की माता है। A, L का भाई है। R, C की पत्नी है। यदि D, A की बहन है, तो निम्नलिखित में से कौन सा कथन सही है?

- I. B, L की बहन हो सकती है।
II. R, A की माता है।

- Ans 1. ना ही। ना ही II
 2. I तथा II दोनों
 3. केवल I
 4. केवल II

Question ID : 630680251073

Option 1 ID : 630680974322

Option 2 ID : 630680974321

Option 3 ID : 630680974319

Option 4 ID : 630680974320

Status : Answered

Chosen Option : 2

Q.68 उस लुप्त युग्म (तीसरा अक्षर समूह : चौथा अक्षर समूह) का चयन करें जो उसी प्रकार संबंधित है जिस प्रकार पहला अक्षर समूह दूसरे अक्षर समूह से संबंधित है और पांचवा अक्षर समूह छठे अक्षर समूह से संबंधित है।

HABS : NZHH :: ? :: FRLW : LIRD

- Ans 1. LRBD : RIIW
 2. GTIV : MGOE
 3. CALK : IZRQ
 4. AMKW : GNQC

Question ID : 630680251078

Option 1 ID : 630680974341

Option 2 ID : 630680974340

Option 3 ID : 630680974342

Option 4 ID : 630680974339

Status : Answered

Chosen Option : 1

Q.69 नीचे दी गई स्ट्रिंग पर विचार करें जो 0 से 9 तक की संख्याओं से बनी है। विषम संख्या वाले स्थानों पर अंक "9" कितनी बार उपस्थित है?

2 1 1 3 1 2 5 3 8 8 2 0 4 3 6 9 5 4 9 6 3 3 5 7 5 3 3 3 3

- Ans 1. एक
 2. तीन से अधिक
 3. दो
 4. तीन

Question ID : 630680251072

Option 1 ID : 630680974316

Option 2 ID : 630680974318

Option 3 ID : 630680974315

Option 4 ID : 630680974317

Status : Answered

Chosen Option : 3

Q.70 एक विशिष्ट कोड भाषा में, 'HINGE' को 'SRMTV' लिखा जाता है। इस कोड भाषा में 'MEANT' को किस प्रकार लिखा जाएगा?

- Ans 1. LXBMJ
 2. NVZMG
 3. OXAJF
 4. QYAJD

Question ID : 630680251076
Option 1 ID : 630680974334
Option 2 ID : 630680974332
Option 3 ID : 630680974333
Option 4 ID : 630680974331
Status : Answered
Chosen Option : 2

Q.71 शब्द 'STARTEW' में अक्षरों के ऐसे कितने युग्म (आगे और पीछे दोनों दिशा में) हैं, जिनमें उनके बीच शब्द में उतने ही अक्षर हैं जितने अंग्रेजी वर्णमाला क्रम में होते हैं?

- Ans 1. दो से अधिक
 2. दो
 3. एक
 4. कोई भी नहीं

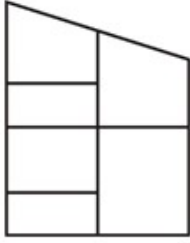
Question ID : 630680251071
Option 1 ID : 630680974314
Option 2 ID : 630680974311
Option 3 ID : 630680974313
Option 4 ID : 630680974312
Status : Answered
Chosen Option : 2

Q.72 एक विशिष्ट कोड भाषा में, 'LAST' को 'ZYGR' लिखा जाता है। इस कोड भाषा में 'CAIN' को किस प्रकार लिखा जाएगा?

- Ans 1. TOEG
 2. TOGL
 3. URDF
 4. TOGI

Question ID : 630680251075
Option 1 ID : 630680974327
Option 2 ID : 630680974329
Option 3 ID : 630680974328
Option 4 ID : 630680974330
Status : Answered
Chosen Option : 2

Q.73 दी गई आकृति में कितने चतुर्भुज हैं?



- Ans
- 1. 14
 - 2. 10
 - 3. 18
 - 4. 16

Question ID : 630680251084

Option 1 ID : 630680974365

Option 2 ID : 630680974363

Option 3 ID : 630680974366

Option 4 ID : 630680974364

Status : Answered

Chosen Option : 1

Q.74 शब्द 'ICECREAM' में अक्षरों को अंग्रेजी वर्णमाला क्रम के अनुसार अगले अक्षर से बदल दिया जाता है।
नवगठित शब्द में बायें से 5वें अक्षर के बायें ओर तीसरा अक्षर क्या होगा?

- Ans
- 1. D
 - 2. J
 - 3. B
 - 4. F

Question ID : 630680251070

Option 1 ID : 630680974307

Option 2 ID : 630680974310

Option 3 ID : 630680974309

Option 4 ID : 630680974308

Status : Answered

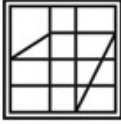
Chosen Option : 2

Q.75 दी गई विकल्प आकृतियों में से उस आकृति को चुनिए जिस में प्रश्न आकृति निहित है।



Ans

✗ 1.



✓ 2.



✗ 3.



✗ 4.



Question ID : 630680251088

Option 1 ID : 630680974380

Option 2 ID : 630680974382

Option 3 ID : 630680974381

Option 4 ID : 630680974379

Status : Answered

Chosen Option : 2

Section : General English

Q.76 In the following question, out of the given four alternatives, select the alternative which best expresses the meaning of the Idiom/Phrase.

A big cheese

Ans ✓ 1. An important and influential person

✗ 2. A big opportunity

✗ 3. Stupid and foolish person

✗ 4. To eat very quickly

Question ID : 630680251106

Option 1 ID : 630680974454

Option 2 ID : 630680974452

Option 3 ID : 630680974451

Option 4 ID : 630680974453

Status : Not Answered

Chosen Option : --

Q.77 In the following question, out of the given four alternatives, select the alternative which best expresses the meaning of the Idiom/Phrase.

A bird of passage

- Ans 1. A person with no home
 2. Someone who never stays in one place for long
 3. An over stated idea
 4. An official trip outside one's country

Question ID : 630680251105

Option 1 ID : 630680974448

Option 2 ID : 630680974450

Option 3 ID : 630680974447

Option 4 ID : 630680974449

Status : Not Answered

Chosen Option : --

Q.78 Choose the word that means the same as the given word.

Pageantry

- Ans 1. Austerity
 2. Chastity
 3. Severity
 4. Flamboyance

Question ID : 630680251111

Option 1 ID : 630680974471

Option 2 ID : 630680974472

Option 3 ID : 630680974473

Option 4 ID : 630680974474

Status : Not Answered

Chosen Option : --

Q.79 Choose the phrase or idiom that best defines the highlighted set of words.

Dev's surprise birthday celebration is a secret that you shouldn't share with him.

- Ans 1. Be in the same boat
 2. By hook or crook
 3. Bite one's tongue
 4. Wade through

Question ID : 630680251107

Option 1 ID : 630680974458

Option 2 ID : 630680974457

Option 3 ID : 630680974456

Option 4 ID : 630680974455

Status : Not Answered

Chosen Option : --

Q.80 A sentence has been given with a blank to be filled with an appropriate option. Choose the correct alternative.

The car involved in the accident looks like _____ electric car.

- Ans
- 1. No article
 - 2. an
 - 3. a
 - 4. the

Question ID : 630680251096

Option 1 ID : 630680974414

Option 2 ID : 630680974412

Option 3 ID : 630680974411

Option 4 ID : 630680974413

Status : Not Answered

Chosen Option : --

Q.81 Choose the incorrectly spelt word.

- Ans
- 1. Truncate
 - 2. Mollify
 - 3. Populuous
 - 4. Subjugate

Question ID : 630680251113

Option 1 ID : 630680974479

Option 2 ID : 630680974480

Option 3 ID : 630680974482

Option 4 ID : 630680974481

Status : Not Answered

Chosen Option : --

Q.82 Choose the word that is opposite in meaning to the given word.

Intoxicated

- Ans
- 1. Sober
 - 2. Naive
 - 3. Drunken
 - 4. Frugal

Question ID : 630680251110

Option 1 ID : 630680974468

Option 2 ID : 630680974469

Option 3 ID : 630680974470

Option 4 ID : 630680974467

Status : Not Answered

Chosen Option : --

Q.83 Find the part of the given sentence that has an error in it. If there is no error, choose 'No error'.

I allowed Meena to dress / me the way she / want for all the coming events. / No error

- Ans
- 1. I allowed Meena to dress
 - 2. No error
 - 3. want for all the coming events.
 - 4. me the way she

Question ID : 630680251102
Option 1 ID : 630680974435
Option 2 ID : 630680974438
Option 3 ID : 630680974437
Option 4 ID : 630680974436
Status : Not Answered
Chosen Option : --

Q.84 Choose the word that is opposite in meaning to the given word.

Abscond

- Ans
- 1. Worship
 - 2. Inspire
 - 3. Demote
 - 4. Stay

Question ID : 630680251109
Option 1 ID : 630680974466
Option 2 ID : 630680974465
Option 3 ID : 630680974464
Option 4 ID : 630680974463
Status : Not Answered
Chosen Option : --

Q.85 A sentence has been given with a blank to be filled with an appropriate option. Choose the correct alternative.

Neither of _____ teachers obeys our rules.

- Ans
- 1. an
 - 2. No article
 - 3. a
 - 4. the

Question ID : 630680251095
Option 1 ID : 630680974410
Option 2 ID : 630680974407
Option 3 ID : 630680974408
Option 4 ID : 630680974409
Status : Not Answered
Chosen Option : --

Q.86 A sentence has been given with a blank to be filled with an appropriate option. Choose the correct alternative.

She was now _____ old woman, but people still looked at her with _____ admiring eyes.

- Ans 1. an, No article
 2. No article, the
 3. the, a
 4. a, an

Question ID : 630680251097
Option 1 ID : 630680974418
Option 2 ID : 630680974416
Option 3 ID : 630680974415
Option 4 ID : 630680974417
Status : Not Answered
Chosen Option : --

Q.87 Choose the word that can substitute the given group of words.

A song to lull children into sleep

- Ans 1. Sonnet
 2. Duet
 3. Lullaby
 4. Orchestra

Question ID : 630680251103
Option 1 ID : 630680974442
Option 2 ID : 630680974439
Option 3 ID : 630680974441
Option 4 ID : 630680974440
Status : Not Answered
Chosen Option : --

Q.88 A sentence has been given with a blank to be filled with an appropriate option. Choose the correct alternative.

He _____ not bear the construction noise and ran out of the room.

- Ans 1. need
 2. could
 3. may
 4. would

Question ID : 630680251099
Option 1 ID : 630680974423
Option 2 ID : 630680974426
Option 3 ID : 630680974425
Option 4 ID : 630680974424
Status : Not Answered
Chosen Option : --

Q.89 Choose the correct spelling of the underlined word. If the given spelling is correct, choose 'No correction'.

No injury or ailment to any passenger was reported.

- Ans 1. ailemnet
 2. ailment
 3. aelment
 4. No correction

Question ID : 630680251114
Option 1 ID : 630680974485
Option 2 ID : 630680974483
Option 3 ID : 630680974484
Option 4 ID : 630680974486
Status : Not Answered
Chosen Option : --

Q.90 Find the part of the given sentence that has an error in it. If there is no error, choose 'No error'.

Sea horses have lived / in our oceans for / over 3 billion years./ No error

- Ans 1. over 3 billion years.
 2. No error
 3. Sea horses have lived
 4. in our oceans for

Question ID : 630680251100
Option 1 ID : 630680974429
Option 2 ID : 630680974430
Option 3 ID : 630680974427
Option 4 ID : 630680974428
Status : Not Answered
Chosen Option : --

Q.91 Choose the word that means the same as the given word.

Fable

- Ans 1. Veracity
 2. Allegory
 3. Reality
 4. Metaphor

Question ID : 630680251112
Option 1 ID : 630680974478
Option 2 ID : 630680974476
Option 3 ID : 630680974475
Option 4 ID : 630680974477
Status : Not Answered
Chosen Option : --

Q.92 A sentence has been given with a blank to be filled with an appropriate option. Choose the correct alternative.

My colleagues and _____ have been discussing this topic.

- Ans
- 1. myself
 - 2. mine
 - 3. me
 - 4. I

Question ID : 630680251098
Option 1 ID : 630680974419
Option 2 ID : 630680974422
Option 3 ID : 630680974421
Option 4 ID : 630680974420
Status : Not Answered
Chosen Option : --

Q.93 Choose the idiom/phrase that can substitute the highlighted group of words meaningfully.

I'll take the risk and predict that our team will win the championship this year.

- Ans
- 1. Pull the plug
 - 2. Go out on a limb
 - 3. Bite the dust
 - 4. Turn over a new leaf

Question ID : 630680251108
Option 1 ID : 630680974459
Option 2 ID : 630680974461
Option 3 ID : 630680974460
Option 4 ID : 630680974462
Status : Not Answered
Chosen Option : --

Q.94 Find the part of the given sentence that has an error in it. If there is no error, choose 'No error'.

Colorado had been / experiencing extreme droughts / in recent years. / No error

- Ans
- 1. Colorado had been
 - 2. experiencing extreme droughts
 - 3. in recent years.
 - 4. No error

Question ID : 630680251101
Option 1 ID : 630680974431
Option 2 ID : 630680974432
Option 3 ID : 630680974433
Option 4 ID : 630680974434
Status : Not Answered
Chosen Option : --

Q.95 Choose the word that can substitute the given group of words.

One who acts against religion

- Ans
- 1. Lunatic
 - 2. Miniscule
 - 3. Heretic
 - 4. Arcane

Question ID : 630680251104

Option 1 ID : 630680974443

Option 2 ID : 630680974445

Option 3 ID : 630680974446

Option 4 ID : 630680974444

Status : Not Answered

Chosen Option : --

Comprehension:

Read the following information carefully and answer the given questions.

The geographic region encompassing "Latin culture" is widespread. Latin America is typically defined as those parts of Central America, South America and Mexico where Spanish or Portuguese are the dominant languages. These are all places that were colonized by or influenced by Spain or Portugal starting in the 1400s. Originally, French geographers used the term "Latin America" to differentiate between Anglo and Romance (Latin-based) languages, according to the University of Texas.

Latin cultures are thus incredibly diverse, and many blend Indigenous traditions with the Spanish language and Catholicism brought by Spanish and Portuguese colonizers. Many of these cultures were also influenced by African cultures due to enslaved Africans being brought to the Americas starting in the 1600s. These influences are particularly strong in Brazil and in Caribbean nations.

Latin culture continues to evolve and spread. A good example is Día de los Muertos, or Day of the Dead, a holiday dedicated to remembering the departed that is celebrated on Nov. 1 and Nov. 2. Day of the Dead dates back to before Christopher Columbus landed in North America, but was moved to its current celebration date by Spanish colonizers, who merged it with the Catholic All Saints Day. Mexican immigrants to the United States brought the holiday with them, and in the 1970s, artists and activities brought focus to Día de los Muertos as a way of celebrating their Chicano (Mexican-American) heritage, according to the Smithsonian American Art Museum. The holiday is now well-known in the United States.

SubQuestion No : 96

Q.96 What can be the suitable title for the given passage?

- Ans
- 1. Evolution of Latin culture
 - 2. Diversity of Latin culture
 - 3. Catholicism
 - 4. What is culture?

Question ID : 630680251116

Option 1 ID : 630680974490

Option 2 ID : 630680974487

Option 3 ID : 630680974488

Option 4 ID : 630680974489

Status : Not Answered

Chosen Option : --

Comprehension:

Read the following information carefully and answer the given questions.

The geographic region encompassing "Latin culture" is widespread. Latin America is typically defined as those parts of Central America, South America and Mexico where Spanish or Portuguese are the dominant languages. These are all places that were colonized by or influenced by Spain or Portugal starting in the 1400s. Originally, French geographers used the term "Latin America" to differentiate between Anglo and Romance (Latin-based) languages, according to the University of Texas.

Latin cultures are thus incredibly diverse, and many blend Indigenous traditions with the Spanish language and Catholicism brought by Spanish and Portuguese colonizers. Many of these cultures were also influenced by African cultures due to enslaved Africans being brought to the Americas starting in the 1600s. These influences are particularly strong in Brazil and in Caribbean nations.

Latin culture continues to evolve and spread. A good example is Día de los Muertos, or Day of the Dead, a holiday dedicated to remembering the departed that is celebrated on Nov. 1 and Nov. 2. Day of the Dead dates back to before Christopher Columbus landed in North America, but was moved to its current celebration date by Spanish colonizers, who merged it with the Catholic All Saints Day. Mexican immigrants to the United States brought the holiday with them, and in the 1970s, artists and activities brought focus to Día de los Muertos as a way of celebrating their Chicano (Mexican-American) heritage, according to the Smithsonian American Art Museum. The holiday is now well-known in the United States.

SubQuestion No : 97

Q.97 Which of the following places were colonized by Spain or Portugal in 15th century?

- Ans** 1. Central America, South America and Mexico
2. Eastern America, Western America and Central America
3. North America, Mexico and Eastern America
4. South America, Denmark and Mexico

Question ID : 630680251119

Option 1 ID : 630680974500

Option 2 ID : 630680974499

Option 3 ID : 630680974501

Option 4 ID : 630680974502

Status : **Not Answered**

Chosen Option : --

Comprehension:

Read the following information carefully and answer the given questions.

The geographic region encompassing "Latin culture" is widespread. Latin America is typically defined as those parts of Central America, South America and Mexico where Spanish or Portuguese are the dominant languages. These are all places that were colonized by or influenced by Spain or Portugal starting in the 1400s. Originally, French geographers used the term "Latin America" to differentiate between Anglo and Romance (Latin-based) languages, according to the University of Texas.

Latin cultures are thus incredibly diverse, and many blend Indigenous traditions with the Spanish language and Catholicism brought by Spanish and Portuguese colonizers. Many of these cultures were also influenced by African cultures due to enslaved Africans being brought to the Americas starting in the 1600s. These influences are particularly strong in Brazil and in Caribbean nations.

Latin culture continues to evolve and spread. A good example is Día de los Muertos, or Day of the Dead, a holiday dedicated to remembering the departed that is celebrated on Nov. 1 and Nov. 2. Day of the Dead dates back to before Christopher Columbus landed in North America, but was moved to its current celebration date by Spanish colonizers, who merged it with the Catholic All Saints Day. Mexican immigrants to the United States brought the holiday with them, and in the 1970s, artists and activities brought focus to Día de los Muertos as a way of celebrating their Chicano (Mexican-American) heritage, according to the Smithsonian American Art Museum. The holiday is now well-known in the United States.

SubQuestion No : 98

Q.98 According to the given passage, which of the following statements is correct?

I. Latin culture influenced by African culture is particularly strong in Brazil and in Caribbean nations.

II. Day of the dead holiday was brought by Mexican immigrant in the United States.

- Ans
- 1. Only I
 - 2. Neither I nor II
 - 3. Both I and II
 - 4. Only II

Question ID : 630680251118

Option 1 ID : 630680974495

Option 2 ID : 630680974498

Option 3 ID : 630680974497

Option 4 ID : 630680974496

Status : **Not Answered**

Chosen Option : --

Comprehension:

Read the following information carefully and answer the given questions.

The geographic region encompassing "Latin culture" is widespread. Latin America is typically defined as those parts of Central America, South America and Mexico where Spanish or Portuguese are the dominant languages. These are all places that were colonized by or influenced by Spain or Portugal starting in the 1400s. Originally, French geographers used the term "Latin America" to differentiate between Anglo and Romance (Latin-based) languages, according to the University of Texas.

Latin cultures are thus incredibly diverse, and many blend Indigenous traditions with the Spanish language and Catholicism brought by Spanish and Portuguese colonizers. Many of these cultures were also influenced by African cultures due to enslaved Africans being brought to the Americas starting in the 1600s. These influences are particularly strong in Brazil and in Caribbean nations.

Latin culture continues to evolve and spread. A good example is Día de los Muertos, or Day of the Dead, a holiday dedicated to remembering the departed that is celebrated on Nov. 1 and Nov. 2. Day of the Dead dates back to before Christopher Columbus landed in North America, but was moved to its current celebration date by Spanish colonizers, who merged it with the Catholic All Saints Day. Mexican immigrants to the United States brought the holiday with them, and in the 1970s, artists and activities brought focus to Día de los Muertos as a way of celebrating their Chicano (Mexican-American) heritage, according to the Smithsonian American Art Museum. The holiday is now well-known in the United States.

SubQuestion No : 99

Q.99 Which of the following words is opposite in meaning to the word 'widespread' as used in the passage?

- Ans
- 1. Divulge
 - 2. Sweeping
 - 3. Extensive
 - 4. Limited

Question ID : 630680251120

Option 1 ID : 630680974504

Option 2 ID : 630680974503

Option 3 ID : 630680974506

Option 4 ID : 630680974505

Status : **Not Answered**

Chosen Option : --

Comprehension:

Read the following information carefully and answer the given questions.

The geographic region encompassing "Latin culture" is widespread. Latin America is typically defined as those parts of Central America, South America and Mexico where Spanish or Portuguese are the dominant languages. These are all places that were colonized by or influenced by Spain or Portugal starting in the 1400s. Originally, French geographers used the term "Latin America" to differentiate between Anglo and Romance (Latin-based) languages, according to the University of Texas.

Latin cultures are thus incredibly diverse, and many blend Indigenous traditions with the Spanish language and Catholicism brought by Spanish and Portuguese colonizers. Many of these cultures were also influenced by African cultures due to enslaved Africans being brought to the Americas starting in the 1600s. These influences are particularly strong in Brazil and in Caribbean nations.

Latin culture continues to evolve and spread. A good example is Día de los Muertos, or Day of the Dead, a holiday dedicated to remembering the departed that is celebrated on Nov. 1 and Nov. 2. Day of the Dead dates back to before Christopher Columbus landed in North America, but was moved to its current celebration date by Spanish colonizers, who merged it with the Catholic All Saints Day. Mexican immigrants to the United States brought the holiday with them, and in the 1970s, artists and activities brought focus to Día de los Muertos as a way of celebrating their Chicano (Mexican-American) heritage, according to the Smithsonian American Art Museum. The holiday is now well-known in the United States.

SubQuestion No : 100**Q.100 Day of the Dead holiday is celebrated in which month?**

- Ans 1. March
 2. January
 3. December
 4. November

Question ID : 630680251117

Option 1 ID : 630680974494

Option 2 ID : 630680974493

Option 3 ID : 630680974492

Option 4 ID : 630680974491

Status : Not Answered

Chosen Option : --

Section : General Hindi

Q.101 दिए गए शब्द का उपसर्ग ज्ञात कीजिए।**निवास**

- Ans 1. निवा
 2. नि
 3. निव
 4. न

Question ID : 630680251134

Option 1 ID : 630680974561

Option 2 ID : 630680974560

Option 3 ID : 630680974559

Option 4 ID : 630680974562

Status : Answered

Chosen Option : 3

Q.102 'सत्यग्रह' का समास-विग्रह ज्ञात कीजिए।

- Ans
- 1. सत्य में अग्रह
 - 2. अग्रह सत्य का
 - 3. सत्य के लिए अग्रह
 - 4. सत्य का अग्रह

Question ID : 630680251136
Option 1 ID : 630680974570
Option 2 ID : 630680974569
Option 3 ID : 630680974568
Option 4 ID : 630680974567
Status : Answered
Chosen Option : 3

Q.103 दिए गए शब्द का प्रयुक्त संधि-विच्छेद ज्ञात कीजिए।

मनोनुकूल

- Ans
- 1. मनो: + नुकूल
 - 2. मन: + अनुकूल
 - 3. मनोनु: + कूल
 - 4. मनोन: + अकूल

Question ID : 630680251138
Option 1 ID : 630680974575
Option 2 ID : 630680974576
Option 3 ID : 630680974577
Option 4 ID : 630680974578
Status : Answered
Chosen Option : 2

Q.104 दिए गए वाक्य में उचित लोकोक्ति का चयन करके रिक्त स्थान की पूर्ति कीजिए।

बासी बचे न कुत्ता खाय का अर्थ _____ होता है।

- Ans
- 1. बहुत कम वस्तु होना।
 - 2. आँखों के सामने ठग लेना।
 - 3. बहुत अधिक वस्तु होना।
 - 4. जितनी आवश्यकता हो उतनी ही वस्तु का होना।

Question ID : 630680251130
Option 1 ID : 630680974545
Option 2 ID : 630680974546
Option 3 ID : 630680974544
Option 4 ID : 630680974543
Status : Answered
Chosen Option : 4

Q.105 दिए गए शब्द का प्रत्यय ज्ञात कीजिए।

आसमानी

- Ans 1. मानी
 2. ई
 3. आनी
 4. समानी

Question ID : 630680251135

Option 1 ID : 630680974564

Option 2 ID : 630680974565

Option 3 ID : 630680974563

Option 4 ID : 630680974566

Status : Answered

Chosen Option : 3

Q.106 'महापुरुष' का समास-विग्रह ज्ञात कीजिए।

- Ans 1. महान में पुरुष
 2. महान अधिकारी
 3. महान है जो पुरुष
 4. पुरुष की महानता

Question ID : 630680251137

Option 1 ID : 630680974574

Option 2 ID : 630680974573

Option 3 ID : 630680974571

Option 4 ID : 630680974572

Status : Answered

Chosen Option : 3

Q.107 दिए गए शब्द का पर्यायवाची ज्ञात कीजिए।

विलोम

- Ans 1. उल्टा
 2. समीप
 3. नीचे
 4. सीधा

Question ID : 630680251122

Option 1 ID : 630680974511

Option 2 ID : 630680974514

Option 3 ID : 630680974513

Option 4 ID : 630680974512

Status : Answered

Chosen Option : 1

Q.108 निम्नलिखित प्रश्न में, दिए गए चार विकल्पों में से, उस विकल्प का चयन करें जो दिए गए मुहावरे के अर्थ को सर्वश्रेष्ठ रूप से व्यक्त करता है।

छोटा मुँह बड़ी बात

- Ans
- 1. समझदारी जैसी बातें करना
 - 2. कर्ज में डूबा होने पर भी साहूकारों जैसी बातें करना
 - 3. अपनी सीमा से बढ़कर बोलना
 - 4. दिखावे का जीवन जीना

Question ID : 630680251131

Option 1 ID : 630680974550

Option 2 ID : 630680974549

Option 3 ID : 630680974548

Option 4 ID : 630680974547

Status : Answered

Chosen Option : 3

Q.109 दिए गए वाक्यांश के लिए सार्थक शब्द ज्ञात कीजिए।

जिसका कोई आकार न हो।

- Ans
- 1. निर्यात
 - 2. निरक्षर
 - 3. निरस्त
 - 4. निराकार

Question ID : 630680251132

Option 1 ID : 630680974553

Option 2 ID : 630680974551

Option 3 ID : 630680974552

Option 4 ID : 630680974554

Status : Answered

Chosen Option : 4

Q.110 दिए गए शब्द युग्म का अर्थ ज्ञात कीजिए।

ग्रह - गृह

- Ans
- 1. शनि और पर्वत
 - 2. पर्वत और घर
 - 3. शनि और घर
 - 4. हाथी और घर

Question ID : 630680251128

Option 1 ID : 630680974537

Option 2 ID : 630680974538

Option 3 ID : 630680974535

Option 4 ID : 630680974536

Status : Answered

Chosen Option : 3

Q.111 दिए गए शब्द का प्रयुक्त संधि-विच्छेद ज्ञात कीजिए।

संघर्ष

- Ans 1. संघ + अर्ष
 2. संघर + ष
 3. सम् + घर्ष
 4. सम + अघर्ष

Question ID : 630680251140

Option 1 ID : 630680974583

Option 2 ID : 630680974584

Option 3 ID : 630680974586

Option 4 ID : 630680974585

Status : Answered

Chosen Option : 1

Q.112 दिए गए शब्द का विलोम शब्द ज्ञात कीजिए।

दुर्गम

- Ans 1. सुगम
 2. विकट
 3. हिमकर
 4. दुर्बल

Question ID : 630680251124

Option 1 ID : 630680974520

Option 2 ID : 630680974519

Option 3 ID : 630680974521

Option 4 ID : 630680974522

Status : Answered

Chosen Option : 1

Q.113 दिए गए वाक्यांश के लिए सार्थक शब्द ज्ञात कीजिए।

अपने जीवन की स्वरचित कथा।

- Ans 1. कथा
 2. काव्य
 3. कथित
 4. आत्मकथा

Question ID : 630680251133

Option 1 ID : 630680974555

Option 2 ID : 630680974556

Option 3 ID : 630680974558

Option 4 ID : 630680974557

Status : Answered

Chosen Option : 4

Q.114 दिए गए शब्द का प्रयुक्त संधि-विच्छेद ज्ञात कीजिए।

रजोदर्शन

- Ans
- 1. राज: + औदर्शन
 - 2. राजोदर: + शन
 - 3. राज: + दर्शन
 - 4. रज: + दर्शन

Question ID : 630680251139

Option 1 ID : 630680974581

Option 2 ID : 630680974579

Option 3 ID : 630680974580

Option 4 ID : 630680974582

Status : Answered

Chosen Option : 3

Q.115 दिए गए शब्द का पर्यायवाची ज्ञात कीजिए।

अनल

- Ans
- 1. वरूण
 - 2. पवन
 - 3. व्योम
 - 4. पावक

Question ID : 630680251121

Option 1 ID : 630680974507

Option 2 ID : 630680974508

Option 3 ID : 630680974509

Option 4 ID : 630680974510

Status : Answered

Chosen Option : 2

Q.116 दिए गए शब्द युग्म का अर्थ ज्ञात कीजिए।

आकर - आकार

- Ans
- 1. जाना और रूप
 - 2. खान और रूप
 - 3. खान और जाना
 - 4. अनाज और अनुचित

Question ID : 630680251127

Option 1 ID : 630680974532

Option 2 ID : 630680974531

Option 3 ID : 630680974533

Option 4 ID : 630680974534

Status : Answered

Chosen Option : 2

Q.117 दिए गए शब्द का विलोम शब्द ज्ञात कीजिए।

स्थिर

- Ans 1. अस्थिर
 2. अटल
 3. शांत
 4. ठोस

Question ID : 630680251123

Option 1 ID : 630680974517

Option 2 ID : 630680974516

Option 3 ID : 630680974515

Option 4 ID : 630680974518

Status : Answered

Chosen Option : 1

Q.118 दिए गए शब्द के अनेकार्थी शब्द ज्ञात कीजिए।

काल

- Ans 1. काला
 2. युग
 3. श्रेणी
 4. शरीर

Question ID : 630680251125

Option 1 ID : 630680974524

Option 2 ID : 630680974523

Option 3 ID : 630680974526

Option 4 ID : 630680974525

Status : Answered

Chosen Option : 2

Q.119 निम्नलिखित प्रश्न में, दिए गए चार विकल्पों में से, उस विकल्प का चयन करें जो दिए गए मुहावरे के अर्थ को सर्वश्रेष्ठ रूप से व्यक्त करता है।

पंचतत्व में विलीन होना

- Ans 1. शक्ति मिलना
 2. मर जाना
 3. साधु बनना
 4. गायब होना

Question ID : 630680251129

Option 1 ID : 630680974541

Option 2 ID : 630680974540

Option 3 ID : 630680974539

Option 4 ID : 630680974542

Status : Answered

Chosen Option : 2

Q.120 दिए गए शब्द के अनेकार्थी शब्द ज्ञात कीजिए।

वर

- Ans 1. पारा
 2. आशीर्वाद
 3. प्रिय
 4. जाति

Question ID : 630680251126

Option 1 ID : 630680974529

Option 2 ID : 630680974527

Option 3 ID : 630680974530

Option 4 ID : 630680974528

Status : Answered

Chosen Option : 2

Comprehension:

निम्नलिखित गद्यांश को ध्यानपूर्वक पढ़िए और दिए गए प्रश्न के उत्तर दीजिए।

यों तो सृष्टि के आरंभ से मानव ज्ञान-विस्तार में प्रवृत्त है, किन्तु 19वीं और 20वीं सदी तो विज्ञान की चरमोन्नति के काल रहे हैं। आज 21वीं सदी भी, विज्ञान के सृष्टि विजयी रथ को और तीव्रता से दौड़ाने में पीछे नहीं है। मनुष्य पर विज्ञान के अनन्त उपकार हैं। आज ऐसा शायद ही कोई क्षेत्र है, जिसे विज्ञान ने अपने उपकारों से कृतज्ञ न बनाया हो। पाताल से लेकर अन्तरिक्ष तक विज्ञान की महिमा का गान हो रहा है। विज्ञान का वरदानी स्वरूप, मानव के लिए हर मनोकामना की पूर्ति करने वाला कल्पवृक्ष बना हुआ है। विज्ञान ने मानव को प्रकृति पर निर्भरता से मुक्त कर उसे अकल्पनीय सुख-सुविधाएँ और सुरक्षा उपलब्ध कराई है। आज रासायनिक खादों, उन्नत बीजों, कृषि-यन्त्रों, बाँधों, नहरों और कृत्रिम वर्षा की सौगात देकर विज्ञान मानव के कृषि-भण्डार को भर रहा है। कहीं नाना प्रकार की गृह-निर्माण सामग्री और शिल्पीय ज्ञान से मानव के विलास-भवनों की रचना कर रहा है, तो वहीं मानव तन को मनमोहक, कृत्रिम और पम्परागत वस्त्रों से अलंकृत भी कर रहा है। चिकित्सा क्षेत्र में भी विज्ञान-क्षय,कैंसर, कुष्ठ तथा एड्स जैसे भयंकर रोगों पर विजय पाने में संघर्षरत है। मस्तिष्क, हृदय और गुदों को प्रत्यारोपित कर, अमरता की मंजिल को प्रशस्त कर रहा है। संचार के क्षेत्र में- रेडियो, मोबाइल फोन, टेलीफोन, टेलीविजन और इण्टरनेट जैसे उपकरणों से विज्ञान ने सारे विश्व को सिकोड़कर छोटा कर डाला है। रेडियो-दूरबीनों से यह ब्रह्माण्ड की छानबीन कर रहा है, वसुन्धरा के गर्भ में झाँक रहा है, सागरों के अतल तल को माप रहा है। इतना ही नहीं मनोरंजन के अनेक साधनों के साथ, व्यापार के क्षेत्र में भी विज्ञान ई-मेल, ई-बैंकिंग जैसे साधन उपलब्ध करायें हैं।

SubQuestion No : 121

Q.121 विज्ञान की चरमोन्नति का काल कौन सा है?

- Ans 1. 19वीं और 20वीं सदी
 2. प्राचीन काल
 3. वर्ष 2020-2021
 4. केवल आज का समय

Question ID : 630680251146

Option 1 ID : 630680974604

Option 2 ID : 630680974603

Option 3 ID : 630680974605

Option 4 ID : 630680974606

Status : Answered

Chosen Option : 1

Comprehension:

निम्नलिखित गद्यांश को ध्यानपूर्वक पढ़िए और दिए गए प्रश्न के उत्तर दीजिए।

यों तो सृष्टि के आरंभ से मानव ज्ञान-विस्तार में प्रवृत्त है, किन्तु 19वीं और 20वीं सदी तो विज्ञान की चरमोन्नति के काल रहे हैं। आज 21वीं सदी भी, विज्ञान के सृष्टि विजयी रथ को और तीव्रता से दौड़ाने में पीछे नहीं है। मनुष्य पर विज्ञान के अनन्त उपकार हैं। आज ऐसा शायद ही कोई क्षेत्र है, जिसे विज्ञान ने अपने उपकारों से कृतज्ञ न बनाया हो। पाताल से लेकर अन्तरिक्ष तक विज्ञान की महिमा का गान हो रहा है। विज्ञान का वरदानी स्वरूप, मानव के लिए हर मनोकामना की पूर्ति करने वाला कल्पवृक्ष बना हुआ है। विज्ञान ने मानव को प्रकृति पर निर्भरता से मुक्त कर उसे अकल्पनीय सुख-सुविधाएँ और सुरक्षा उपलब्ध कराई है। आज रासायनिक खादों, उन्नत बीजों, कृषि-यन्त्रों, बाँधों, नहरों और कृत्रिम वर्षा की सौगात देकर विज्ञान मानव के कृषि-भण्डार को भर रहा है। कहीं नाना प्रकार की गृह-निर्माण सामग्री और शिल्पीय ज्ञान से मानव के विलास-भवनों की रचना कर रहा है, तो वही मानव तन को मनमोहक, कृत्रिम और पम्परागत वस्त्रों से अलंकृत भी कर रहा है। चिकित्सा क्षेत्र में भी विज्ञान-क्षय,कैंसर, कुष्ठ तथा एड्स जैसे भयंकर रोगों पर विजय पाने में संघर्षरत है। मस्तिष्क, हृदय और गुदों को प्रत्यारोपित कर, अमरता की मंजिल को प्रशस्त कर रहा है। संचार के क्षेत्र में- रेडियो, मोबाइल फोन, टेलीफोन, टेलीविजन और इण्टरनेट जैसे उपकरणों से विज्ञान ने सारे विश्व को सिकोड़कर छोटा कर डाला है। रेडियो-दूरबीनों से यह ब्रह्माण्ड की छानबीन कर रहा है, वसुन्धरा के गर्भ में झाँक रहा है, सागरों के अतल तल को माप रहा है। इतना ही नहीं मनोरंजन के अनेक साधनों के साथ, व्यापार के क्षेत्र में भी विज्ञान ई-मेल, ई-बैंकिंग जैसे साधन उपलब्ध करायें हैं।

SubQuestion No : 122

Q.122 दिए गए अपठित गद्यांश का उपयुक्त शीर्षक क्या होगा?

- Ans
- 1. आधुनिक विकास
 - 2. विज्ञान की हानि
 - 3. विज्ञान और विनाश
 - 4. विज्ञान से विकास

Question ID : 630680251142

Option 1 ID : 630680974589

Option 2 ID : 630680974588

Option 3 ID : 630680974590

Option 4 ID : 630680974587

Status : Answered

Chosen Option : 4

Comprehension:

निम्नलिखित गद्यांश को ध्यानपूर्वक पढ़िए और दिए गए प्रश्न के उत्तर दीजिए।

यों तो सृष्टि के आरंभ से मानव ज्ञान-विस्तार में प्रवृत्त है, किन्तु 19वीं और 20वीं सदी तो विज्ञान की चरमोन्नति के काल रहे हैं। आज 21वीं सदी भी, विज्ञान के सृष्टि विजयी रथ को और तीव्रता से दौड़ाने में पीछे नहीं है। मनुष्य पर विज्ञान के अनन्त उपकार हैं। आज ऐसा शायद ही कोई क्षेत्र है, जिसे विज्ञान ने अपने उपकारों से कृतज्ञ न बनाया हो। पाताल से लेकर अन्तरिक्ष तक विज्ञान की महिमा का गान हो रहा है। विज्ञान का वरदानी स्वरूप, मानव के लिए हर मनोकामना की पूर्ति करने वाला कल्पवृक्ष बना हुआ है। विज्ञान ने मानव को प्रकृति पर निर्भरता से मुक्त कर उसे अकल्पनीय सुख-सुविधाएँ और सुरक्षा उपलब्ध कराई है। आज रासायनिक खादों, उन्नत बीजों, कृषि-यन्त्रों, बाँधों, नहरों और कृत्रिम वर्षा की सौगात देकर विज्ञान मानव के कृषि-भण्डार को भर रहा है। कहीं नाना प्रकार की गृह-निर्माण सामग्री और शिल्पीय ज्ञान से मानव के विलास-भवनों की रचना कर रहा है, तो वही मानव तन को मनमोहक, कृत्रिम और पम्परागत वस्त्रों से अलंकृत भी कर रहा है। चिकित्सा क्षेत्र में भी विज्ञान-क्षय,कैंसर, कुष्ठ तथा एड्स जैसे भयंकर रोगों पर विजय पाने में संघर्षरत है। मस्तिष्क, हृदय और गुदों को प्रत्यारोपित कर, अमरता की मंजिल को प्रशस्त कर रहा है। संचार के क्षेत्र में- रेडियो, मोबाइल फोन, टेलीफोन, टेलीविजन और इण्टरनेट जैसे उपकरणों से विज्ञान ने सारे विश्व को सिकोड़कर छोटा कर डाला है। रेडियो-दूरबीनों से यह ब्रह्माण्ड की छानबीन कर रहा है, वसुन्धरा के गर्भ में झाँक रहा है, सागरों के अतल तल को माप रहा है। इतना ही नहीं मनोरंजन के अनेक साधनों के साथ, व्यापार के क्षेत्र में भी विज्ञान ई-मेल, ई-बैंकिंग जैसे साधन उपलब्ध करायें हैं।

SubQuestion No : 123

Q.123 विज्ञान का स्वरूप मनुष्य के लिए कैसा है?

- Ans 1. घातक
 2. वरदानी व कल्पवृक्ष के सामान
 3. कृत्रिम व काल्पनिक
 4. परिश्रमी व कठिन

Question ID : 630680251143

Option 1 ID : 630680974592

Option 2 ID : 630680974591

Option 3 ID : 630680974593

Option 4 ID : 630680974594

Status : Answered

Chosen Option : 2

Comprehension:

निम्नलिखित गद्यांश को ध्यानपूर्वक पढ़िए और दिए गए प्रश्न के उत्तर दीजिए।

यों तो सृष्टि के आरंभ से मानव ज्ञान-विस्तार में प्रवृत्त है, किन्तु 19वीं और 20वीं सदी तो विज्ञान की चरमोन्नति के काल रहे हैं। आज 21वीं सदी भी, विज्ञान के सृष्टि विजयी रथ को और तीव्रता से दौड़ाने में पीछे नहीं है। मनुष्य पर विज्ञान के अनन्त उपकार हैं। आज ऐसा शायद ही कोई क्षेत्र है, जिसे विज्ञान ने अपने उपकारों से कृतज्ञ न बनाया हो। पाताल से लेकर अन्तरिक्ष तक विज्ञान की महिमा का गान हो रहा है। विज्ञान का वरदानी स्वरूप, मानव के लिए हर मनोकामना की पूर्ति करने वाला कल्पवृक्ष बना हुआ है। विज्ञान ने मानव को प्रकृति पर निर्भरता से मुक्त कर उसे अकल्पनीय सुख-सुविधाएँ और सुरक्षा उपलब्ध कराई है। आज रासायनिक खादों, उन्नत बीजों, कृषि-यन्त्रों, बाँधों, नहरों और कृत्रिम वर्षा की सौगात देकर विज्ञान मानव के कृषि-भण्डार को भर रहा है। कहीं नाना प्रकार की गृह-निर्माण सामग्री और शिल्पीय ज्ञान से मानव के विलास-भवनों की रचना कर रहा है, तो वही मानव तन को मनमोहक, कृत्रिम और पम्परागत वस्त्रों से अलंकृत भी कर रहा है। चिकित्सा क्षेत्र में भी विज्ञान-क्षय,कैंसर, कुष्ठ तथा एड्स जैसे भयंकर रोगों पर विजय पाने में संघर्षरत है। मस्तिष्क, हृदय और गुदों को प्रत्यारोपित कर, अमरता की मंजिल को प्रशस्त कर रहा है। संचार के क्षेत्र में- रेडियो, मोबाइल फोन, टेलीफोन, टेलीविजन और इण्टरनेट जैसे उपकरणों से विज्ञान ने सारे विश्व को सिकोड़कर छोटा कर डाला है। रेडियो-दूरबीनों से यह ब्रह्माण्ड की छानबीन कर रहा है, वसुन्धरा के गर्भ में झाँक रहा है, सागरों के अतल तल को माप रहा है। इतना ही नहीं मनोरंजन के अनेक साधनों के साथ, व्यापार के क्षेत्र में भी विज्ञान ई-मेल, ई-बैंकिंग जैसे साधन उपलब्ध करायें हैं।

SubQuestion No : 124

Q.124 'कल्पवृक्ष' का अभिप्राय यहाँ कैसे वृक्ष से है?

- Ans 1. मानव मन की सभी इच्छाओं को पूरा करने वाला वृक्ष
2. बहुत अधिक ऑक्सीजन देने वाला वृक्ष
3. सोना बरसाने वाला वृक्ष
4. भूत-प्रेत का वृक्ष

Question ID : 630680251144

Option 1 ID : 630680974598

Option 2 ID : 630680974597

Option 3 ID : 630680974595

Option 4 ID : 630680974596

Status : Answered

Chosen Option : 1

Comprehension:

निम्नलिखित गद्यांश को ध्यानपूर्वक पढ़िए और दिए गए प्रश्न के उत्तर दीजिए।

यों तो सृष्टि के आरंभ से मानव ज्ञान-विस्तार में प्रवृत्त है, किन्तु 19वीं और 20वीं सदी तो विज्ञान की चरमोन्नति के काल रहे हैं। आज 21वीं सदी भी, विज्ञान के सृष्टि विजयी रथ को और तीव्रता से दौड़ाने में पीछे नहीं है। मनुष्य पर विज्ञान के अनन्त उपकार हैं। आज ऐसा शायद ही कोई क्षेत्र है, जिसे विज्ञान ने अपने उपकारों से कृतज्ञ न बनाया हो। पाताल से लेकर अन्तरिक्ष तक विज्ञान की महिमा का गान हो रहा है। विज्ञान का वरदानी स्वरूप, मानव के लिए हर मनोकामना की पूर्ति करने वाला कल्पवृक्ष बना हुआ है। विज्ञान ने मानव को प्रकृति पर निर्भरता से मुक्त कर उसे अकल्पनीय सुख-सुविधाएँ और सुरक्षा उपलब्ध कराई है। आज रासायनिक खादों, उन्नत बीजों, कृषि-यन्त्रों, बाँधों, नहरों और कृत्रिम वर्षा की सौगात देकर विज्ञान मानव के कृषि-भण्डार को भर रहा है। कहीं नाना प्रकार की गृह-निर्माण सामग्री और शिल्पीय ज्ञान से मानव के विलास-भवनों की रचना कर रहा है, तो वही मानव तन को मनमोहक, कृत्रिम और पम्परागत वस्त्रों से अलंकृत भी कर रहा है। चिकित्सा क्षेत्र में भी विज्ञान-क्षय,कैंसर, कुष्ठ तथा एड्स जैसे भयंकर रोगों पर विजय पाने में संघर्षरत है। मस्तिष्क, हृदय और गुदों को प्रत्यारोपित कर, अमरता की मंजिल को प्रशस्त कर रहा है। संचार के क्षेत्र में- रेडियो, मोबाइल फोन, टेलीफोन, टेलीविजन और इण्टरनेट जैसे उपकरणों से विज्ञान ने सारे विश्व को सिकोड़कर छोटा कर डाला है। रेडियो-दूरबीनों से यह ब्रह्माण्ड की छानबीन कर रहा है, वसुन्धरा के गर्भ में झाँक रहा है, सागरों के अतल तल को माप रहा है। इतना ही नहीं मनोरंजन के अनेक साधनों के साथ, व्यापार के क्षेत्र में भी विज्ञान ई-मेल, ई-बैंकिंग जैसे साधन उपलब्ध करायें हैं।

SubQuestion No : 125

Q.125 विज्ञान की महिमा का गान कहाँ तक फैला है?

- Ans
- 1. केवल खेती के क्षेत्र तक
 - 2. केवल मनोरंजन के क्षेत्र तक
 - 3. दूसरी दुनिया में
 - 4. अन्तरिक्ष से पाताल तक

Question ID : 630680251145

Option 1 ID : 630680974600

Option 2 ID : 630680974601

Option 3 ID : 630680974599

Option 4 ID : 630680974602

Status : Answered

Chosen Option : 4